




Benim yaşı iki basamaklı en büyük doğal sayıdır?

1 Yukarıdaki kaplumbağa kaç yaşındadır?  
A. 99 B. 90 C. 10



2 Yukarıdaki kelebekler bir desteden ne kadar azdır?  
A. 3 B. 7 C. 10



3 Yukarıda modellenen sayının onlar basamağındaki rakamın basamak değeri kaçtır?  
A. 5 B. 30 C. 50



4 Örüntüye göre aşağıdaki sayılardan hangisi yapraklara yazılmaz?  
A. 14 B. 17 C. 19

5 Aşağıdaki toplama işleminden hangisi eldeli toplama işlemidir?

A.  $\begin{array}{r} 23 \\ + 14 \\ \hline \end{array}$  B.  $\begin{array}{r} 18 \\ + 41 \\ \hline \end{array}$  C.  $\begin{array}{r} 27 \\ + 36 \\ \hline \end{array}$

6 Yandaki toplama işleminde  $\square$  yerine hangi sayı yazılmalıdır?  
A. 52 B. 50 C. 32

$$\begin{array}{r} 20 \\ + \square \\ \hline 72 \end{array}$$



Bizim bahçede 14 elma 28 armut ağacı var.

Cihanların bahçesinde toplam kaç tane ağaç vardır?  
A. 14 B. 42 C. 56



Dün 36 simit sattım. Bugün 27 simit sattım.

Simitçi iki günde toplam kaç simit satmıştır?  
A. 43 B. 63 C. 83

1.  $\begin{array}{r} 26 \\ - 12 \\ \hline \end{array}$  2.  $\begin{array}{r} 22 \\ - 21 \\ \hline \end{array}$  3.  $\begin{array}{r} 39 \\ - 25 \\ \hline \end{array}$

9 Yukarıdaki çıkarma işlemlerinden hangilerinin sonuçları eşittir?  
A. 1-2 B. 1-3 C. 2-3



10 Baloncunun 33 balonu vardı. 24 tanesini sattı. Baloncunun geriye kaç balonu kalmıştır?

A. 7 B. 9 C. 17

11 Aşağıdaki işlemlerden hangisinin sonucu en küçüktür?

A.  $\begin{array}{r} 34 \\ - 17 \\ \hline \end{array}$  B.  $\begin{array}{r} 75 \\ - 63 \\ \hline \end{array}$  C.  $\begin{array}{r} 56 \\ - 38 \\ \hline \end{array}$



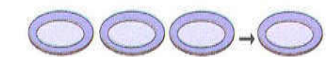
Yandaki işleminde  $\square$  yerine aşağıdakilerden hangisi yazılmalıdır?

A. 6 B. 32 C. 42




Yukarıdaki tabaklarda kaç elma olduğunu bulmak için hangi işlemleri yapmalıyız?

A.  $3 \times 5$  B.  $3 \times 3$  C.  $4 \times 4$



14 Yukarıda modellenen işlem aşağıdakilerden hangisidir?

A.  $3 \times 1 = 3$  B.  $3 \times 3 = 9$  C.  $3 \times 0 = 0$



Yukarıdaki koyunlardan 4 tane olsaydı koyunların ayak sayıları toplam kaç tane olurdu?

A. 8 B. 12 C. 16

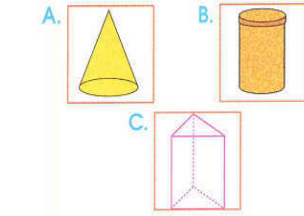


3 inek ile 4 tavuğun toplamda kaç ayağı vardır?  
A. 7 B. 20 C. 24

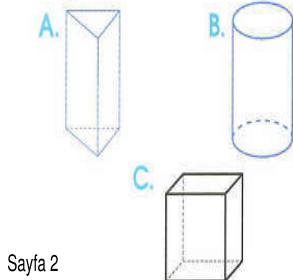
17 Günde 4 ekmek tüketen bir aile bir haftada kaç ekmek tüketir?

A. 36 B. 32 C. 28

18 Alt ve üst tabanları daire olan geometrik şekil aşağıdakilerden hangisidir?



19 Aşağıdaki şekillerden hangisinin köşesi yoktur?



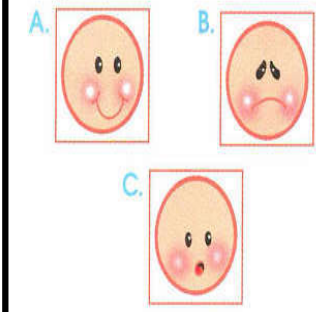
1 Aşağıdakilerden hangisi kişisel bakımla ilgili değildir?  
A. Diş fırçalamak  
B. Tırnaklarımızı kesmek  
C. Sınıfımızdaki çöpleri toplamak

2 Aşağıdakilerin hangisi okul kullarından değildir?  
A. Yaya geçidinden geçmek  
B. Yerlere çöp atmamak  
C. Koridorda koşturmak

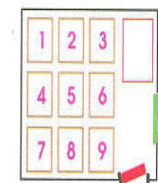
3 Aşağıdakilerden hangisi bağımsızlığımızın sembolüdür?  
A. Okullar B. Filama C. Bayrak

4 Aşağıdakilerden hangisi el ve tırnak temizliği ile ilgili değildir?  
A. Sabun B. Diş fırçası C. Tırnak makası

5 Arkadaşı, Can'a doğum günü hediyesi almıştır. Bu durum karşısında Can'ın duygusu hangi yüz ifadesiyle verilmiştir?



6 Öğretmen sınıfta ders anlatırken nasıl davranmak doğrudur?  
A. Öğretmeni dikkatlice dinlemek  
B. Arkadaşlarla sohbet etmek  
C. Sınıfta dolaşmak



Emre'nin oturduğu yer, kapı tarafından 2. sıradadır.

7 Buna göre Emre'nin oturduğu sıranın numarası kaçtır?  
A. 9 B. 5 C. 8

8 Aşağıdakilerden hangisi yanlış bir davranıştır?



9 Aşağıdakilerden hangisi başarılı bir öğrencinin davranışı olmaz?  
A. Okulda öğretmeni dinlemek  
B. Bol bol bilgisayar oyunu oynamak  
C. Planlı bir şekilde çalışmak

10 Aşağıdakilerden hangisi okul çalışanlarından biri değildir?  
A. Polis B. Hizmetli C. Öğretmen



11 Aşağıdaki verilenlerden hangisi Atatürk'ün gittiği okullardan biri değildir?

- A. Mahalle mektebi
- B. Selanik İlkokulu
- C. Şemsi Efendi İlkokulu



16 Yukarıdaki organımızın vücuttaki görevi nedir?

- A. Kani temizlemek
- B. Kani süzmek
- C. Kani vücuda pompalamak

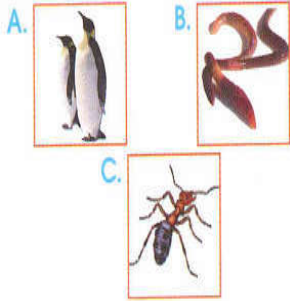
12 Aşağıdakilerden hangisini okulda kullanamaz?

- A. Ramazan Bayramı
- B. Ulusal Egemenlik ve Çocuk Bayramı
- C. Cumhuriyet Bayramı

17 Aşağıdakilerden hangisini yapmak görgü kurallarına aykırıdır?

- A. Ağzımızda yemek varken konuşmamak
- B. Tabagımızdaki yemeği bitirmek
- C. Kardeşimizin tabağından yemek

13 Aşağıdakilerden hangisi yuvasını toprak altına yapmaz?



18 Vücudumuzun sağlığını korumak için aşağıdakilerden hangisini yapmalıyız?

- A. Ayda bir banyo yapmalıyız.
- B. Kitap okumalıyız.
- C. Dengeli beslenmeliyiz.

14 Aşağıdakilerden hangisi uygun bir çalışma ortamıdır?

- A. Sessiz bir oda
- B. Salon
- C. Balkon

19 Aşağıdakilerden hangisi babanızın çocukluğunda kullandığı bir oyuncak olamaz?

- A. Bilgisayar oyunu
- B. Topaç
- C. Plastik kamyon

15 Yeni aldığı okul ayakkabılarıyla futbol oynayan Cem için aşağıdakilerden hangisini söylemek doğrudur?

- A. Özensiz
- B. Tutumlu
- C. Cimri

## TURKÇE

Babam spor yapmak için her sabah erkenden kalkar. Sporun sağlığımız için önemli olduğunu söyler. İnsan kendini spor yaptıkça daha dinç hissedermiş. Bir sabah ben de babamla kalktım spor yapmak için. Biraz yürüdük. Sonra babam bazı hareketler göstererek benden tekrarlamamı istedi. İlk başta yorucu geliyordu. Ama sonra kendimi daha zinde ve daha enerjik hissettim. Spor yapmak gerçekten önemliymiş.

İlk üç soruyu metne göre cevaplayınız.

1. Yazarın babası niçin erkenden kalkarmış?

- A. Uyuyamadığı için
- B. İşe gitmek için
- C. Spor yapmak için

2. Yazarın babası genellikle ne zaman spor yaparmış?

- A. Akşam saatlerinde
- B. Öğlen saatlerinde
- C. Sabah saatlerinde

3. Spor yapmak niçin önemlidir?

- A. Boş vakitleri doldurmak için
- B. Sağlıklı yaşam için
- C. Para kazanmak için

4. Aşağıdaki hangi cümlelerin sonuna farklı bir noktalama işareti gelmelidir?

- A. Ne zaman gelecekmış
- B. Hangisini beğendin
- C. Bunların hepsi çok güzel

5. Aşağıdaki hangi sözcükte daha fazla hece vardır?

- A. Armut
- B. Portakal
- C. Ceviz

6. Hangi öğrenci yazım yanlış yapmıştır?



7. "Annem çok güzel ..... yapar." cümlesinde boş bırakılan yere hangi sözcük getirilebilir?

- A. Defter
- B. Yemek
- C. Bulut

8. "Ödevlerimi zamanında yaptığım için ..... " cümlesi hangisiyle devam ettirilebilir?

- A. Oyun oynadım.
- B. Üzgünüm.
- C. Yetiştiremedim.



Ali'nin hasta olmasının sebebi aşağıdaki seçeneklerin hangisinde verilmiştir?

- A. Sağlıksız beslenmiştir.
- B. Çok uyumuştur.
- C. Terli terli su içmiştir.

10. "Hatıra" sözcüğünün eş anlamı aşağıdakilerden hangisidir?

- A. Yıl
- B. Anı
- C. Akıl

11. Aşağıda eş anlamlarıyla verilen sözcüklerden hangisi yanlış?

- A. Uzun - uzak
- B. Yabancı - el
- C. Sual - soru



Hangi öğrenci yazım yanlış yapmıştır?

- A. Serkan
- B. Semih
- C. Pelin

12. "gül" sözcüğü hangi cümlede "çiçek" anlamında kullanılmıştır?

- A. Yüzü her zaman gülen biriydi.
- B. Bu olaydan sonra çok güldük.
- C. Anneme bir demet gül aldım.

13. Özel isimlere getirilen ekleri ayırmak için hangi noktalama işaretini kullanırız?

- A. Nokta ( . )
- B. Kesme işareti ( ' )
- C. Kısa çizgi ( - )

14. "yaş" sözcüğü hangi cümlede diğerlerinden farklı anlamda kullanılmıştır?

- A. Bu çamaşırlar daha yaş.
- B. Toprak daha çok yaş.
- C. Öğretmenim yaşımı sordu.



15. "ağır" sözcüğünün zıt (karşıt) anlamı hangi vagona verilmiştir?

- A. 1
- B. 2
- C. 3



Yukarıdaki sözcüklerden kaç tanesi özel isimdir?

- A. 4
- B. 3
- C. 5

18. Aşağıda zıt anlamları ile eşleştirilen sözcüklerden hangisi yanlış eşleştirilmiştir?



19. Aşağıdakilerden hangisi birden fazla varlığı belirtir?

- A. Tahta
- B. Merdiven
- C. Uçaklar